

Komplexe Funktionen für Studierende der Ingenieurwissenschaften

Hörsaalübung mit Beispielaufgaben zu Blatt 5

Cauchysche Integralsätze und Formeln

Für eine holomorphe Funktion $f : D \subset \mathbb{C} \rightarrow \mathbb{C}$ im einfach zusammenhängenden Gebiet D , $z_0 \in D$ und eine geschlossene stückweise C^1 -Kurve $c : [a, b] \rightarrow D \setminus \{z_0\}$, die z_0 einmal im positiven Sinn umläuft, gilt

Cauchyscher Integralsatz:
$$\oint_c f(z) dz = 0,$$

Cauchysche Integralformel:
$$f(z_0) = \frac{1}{2\pi i} \oint_c \frac{f(z)}{z - z_0} dz,$$

verallg. Cauchysche Integralformel:
$$\frac{f^{(n)}(z_0)}{n!} = \frac{1}{2\pi i} \oint_c \frac{f(z)}{(z - z_0)^{n+1}} dz.$$

Aufgabe 17:

Man berechne mit Hilfe des Cauchyschen Integralsatzes bzw. der Cauchyschen Integralformel die folgenden Kurvenintegrale, falls diese erklärt sind. Alle auftretenden Kurven werden einmal positiv orientiert durchlaufen.

a) $\oint_{|z|=1} \frac{1}{z^2 + 4} dz,$

b) $\oint_c \frac{1}{z+2} dz, \quad c : |z+1-i| = 1,$

c) $\oint_{c_{1,2}} \frac{z^2 - 2z + 2}{z^3 - z^2 + 2} dz, \quad c_1 : |z| = 0.5, \quad c_2 : |z| = 1.5,$

d) $\oint_{|z+1-i|=1} \frac{1}{z^2 + 4z + 5} dz,$

e) $\oint_{c_{1,2}} \frac{z^3}{z^2 - iz + 6} dz, \quad c_1 : |z| = 2.5, \quad c_2 : |z-i| = 2.5,$

f) $\oint_c \frac{z^2 + 3z - 1}{z^2 + z - 2} dz, \quad c : |z-i| = 3.$

Lösung:

a)

$$0 = z^2 + 4 = (z + 2i)(z - 2i)$$

Die Singularitäten $z_{1,2} = \pm 2i$ liegen nicht im Kreis $|z| = 1$.

Cauchyscher Integralsatz:

$$\oint_{|z|=1} \frac{1}{z^2 + 4} dz = 0$$

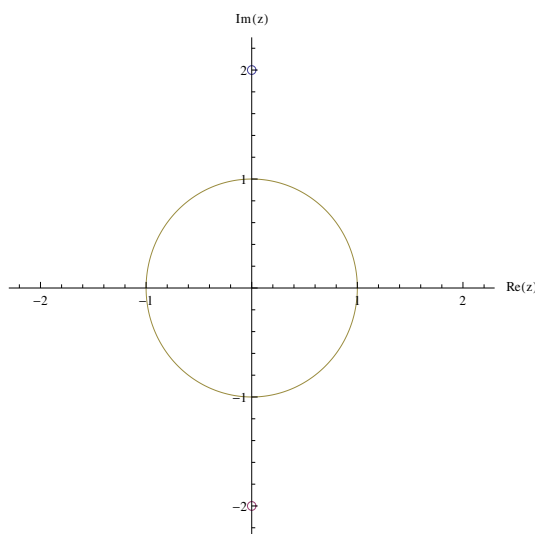


Bild 17 a): Kurve $c : |z| = 1$

b)

Isolierte Singularität bei $z_0 = -2$
wird nicht von $c : |z + 1 - i| = 1$
umschlossen

$$\oint_{|z+1-i|=1} \frac{1}{z+2} dz = 0$$

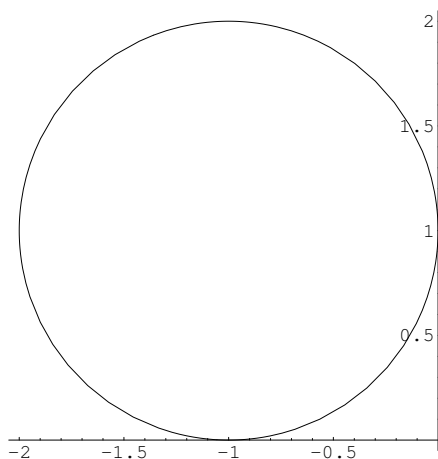


Bild 17 b): Kurve $c : |z + 1 - i| = 1$

c)
$$\frac{z^2 - 2z + 2}{z^3 - z^2 + 2} = \frac{(z - 1 - i)(z - 1 + i)}{(z + 1)(z - 1 - i)(z - 1 + i)} = \frac{1}{z + 1}$$

Isolierte aber hebbare Singularitäten bei $z_1 = 1 + i$, $z_2 = 1 - i$:

Isolierte und nicht hebbare Singularität bei $z_0 = -1$:

z_0 wird von $c_1 : |z| = 0.5$ nicht umschlossen:
$$\oint_{c_1} \frac{1}{z+1} dz = 0$$

z_0 wird von $c_2 : |z| = 1.5$ umschlossen:
$$\oint_{c_2} \frac{1}{z+1} dz = 2\pi i$$

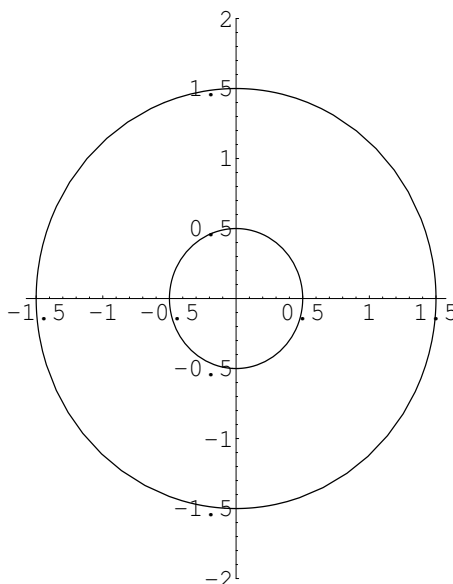


Bild 17 c): Kurven $c_1 : |z| = 0.5$ und $c_2 : |z| = 1.5$

d)

$$\begin{aligned} 0 &= z^2 + 4z + 5 \\ &= (z + 2 + i)(z + 2 - i) \\ \Rightarrow z_{1,2} &= -2 \pm i \end{aligned}$$

Die Singularität $z_1 = -2 + i$ liegt auf dem Kreis $|z + 1 - i| = 1$.

Damit ist das Integral nicht erklärt.

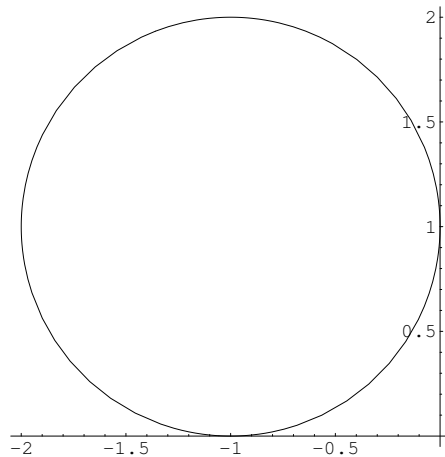


Bild 17 d): Kurve $c : |z + 1 - i| = 1$

e)
$$\frac{z^3}{z^2 - iz + 6} = z^3 \cdot \frac{1}{z - 3i} \cdot \frac{1}{z + 2i},$$

Singularitäten bei $z_0 = 3i$ und $z_1 = -2i$:

$c_1 : |z| = 2.5$ umschließt nur die Singularität $z_1 = -2i$

$$f(z) = z^3 \cdot \frac{1}{z - 3i} \Rightarrow f(-2i) = \frac{(-2i)^3}{-2i - 3i} = \frac{8i}{-5i} = -\frac{8}{5}$$

$$\oint_{c_1} \frac{f(z)}{z + 2i} dz = 2\pi i f(-2i) = -\frac{16\pi i}{5}$$

$c_2 : |z - i| = 2.5$ umschließt nur die Singularität $z_1 = 3i$

$$f(z) = z^3 \cdot \frac{1}{z + 2i} \Rightarrow f(3i) = \frac{(3i)^3}{3i + 2i} = \frac{-27i}{5i} = -\frac{27}{5}$$

$$\oint_{c_2} \frac{f(z)}{z + 2i} dz = 2\pi i f(3i) = -\frac{54\pi i}{5}$$

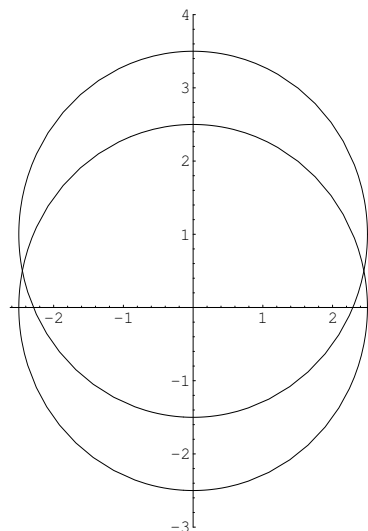


Bild 17 e): Kurven $c_1 : |z| = 2.5$ und $c_2 : |z - i| = 2.5$

f) $c : |z - i| = 3$ umschließt zunächst beide Singularität $z_0 = -2$ und $z_1 = 1$

Partialbruchzerlegung:
$$\frac{z^2 + 3z - 1}{z^2 + z - 2} = 1 + \frac{1}{z - 1} + \frac{1}{z + 2},$$

$$\oint_c \frac{z^2 + 3z - 1}{z^2 + z - 2} dz = \oint_c dz + \oint_c \frac{1}{z - 1} dz + \oint_c \frac{1}{z + 2} dz = 0 + 2\pi i + 2\pi i = 4\pi i$$

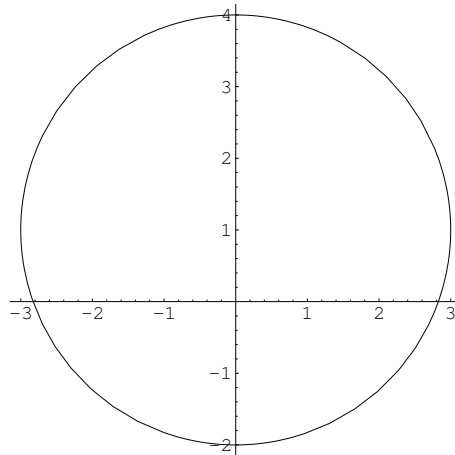


Bild 17 f): Kurve $c : |z - i| = 3$

Aufgabe 18:

Man berechne mit Hilfe der verallgemeinerten Cauchyschen Integralformel die folgenden Kurvenintegrale (alle auftretenden Kurven seien positiv orientiert):

a) $\oint_{|z|=1} \frac{\cos z}{z^3} dz,$

b) $\oint_{|z|=1} \frac{1}{z^5 + 2z^4} dz,$

c) $\oint_c z^2 + \frac{e^z}{z^2} dz, \quad c: |z| = \pi,$

d) $\oint_c \frac{\ln z}{(z - 1 - i)^5} dz, \quad c: |z - 1 - 2i| = 2.$

Lösung:

a)

Die Singularität $z_1 = 0$ liegt im Kreis $|z| = 1$.

verallgemeinerte Cauchysche Integralformel:

$$\begin{aligned} \oint_{|z|=1} \frac{\cos z}{z^3} &= 2\pi i \frac{(\cos z)''}{2!} \Big|_{z=0} \\ &= -\pi i \cos 0 = -\pi i \end{aligned}$$

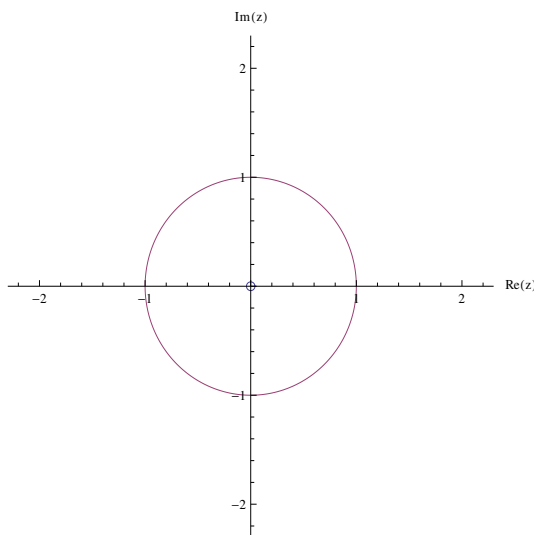


Bild 18 a): Kurve $c: |z| = 1$

b)
$$\frac{1}{z^5 + 2z^4} = \frac{1}{z^4} \cdot \frac{1}{z + 2}$$

Die Singularität $z_1 = 0$ liegt im Kreis $|z| = 1$ und die Singularität $z_2 = -2$ nicht.

verallgemeinerte Cauchysche Integralformel:

$$\begin{aligned} \oint_{|z|=1} \frac{1}{z^5 + 2z^4} &= \frac{2\pi i}{3!} \left(\frac{1}{z + 2} \right)''' \Big|_{z=0} \\ &= \frac{2\pi i (-1)(-2)(-3)}{3!} \cdot \frac{1}{(z + 2)^4} \Big|_{z=0} \\ &= -\frac{\pi i}{8} \end{aligned}$$

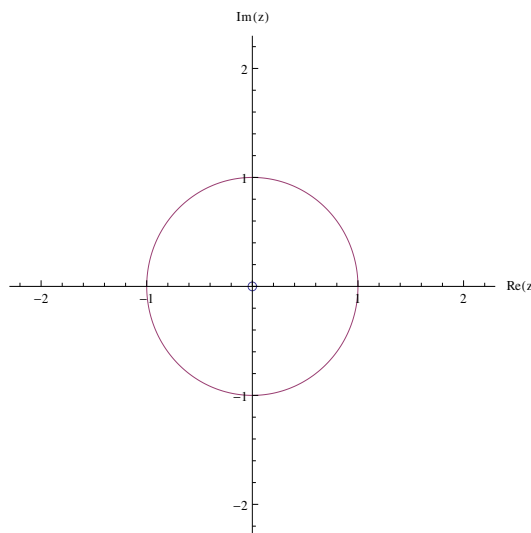


Bild 18 b): Kurve $c : |z| = 1$

c) Isolierte Singularität bei $z_0 = 0$ liegt in $c : |z| = \pi$

$$\begin{aligned} \oint_{|z|=\pi} z^2 + \frac{e^z}{z^2} dz \\ &= \oint_{|z|=\pi} z^2 dz + \oint_{|z|=\pi} \frac{e^z}{z^2} dz \\ &= 0 + 2\pi i \frac{(e^z)'}{1!} \Big|_{z=0} = 2\pi i \end{aligned}$$

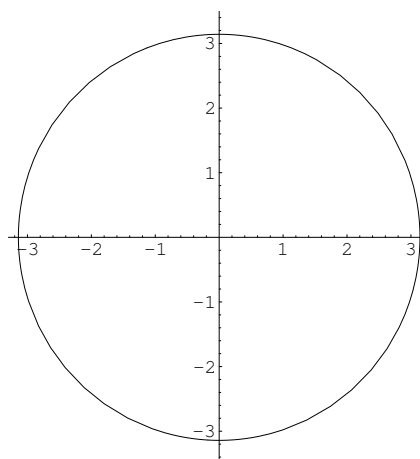


Bild 18 c): Kurve $c : |z| = \pi$

d) Einzige Singularität bei $z_0 = 1 + i$,

$\ln z$ ist holomorph im von der Kurve $c : |z - 1 - 2i| = 2$ umschlossenen Gebiet.

$$\begin{aligned} \ln^{(iv)} z = -\frac{6}{z^4} &\Rightarrow \ln^{(iv)}(1 + i) \\ &= -\frac{6}{(1 + i)^4} = -\frac{6}{(\sqrt{2}e^{i\pi/4})^4} = \frac{3}{2} \end{aligned}$$

$$\begin{aligned} \oint_c \frac{\ln z}{(z - 1 - i)^5} dz \\ &= \frac{2\pi i \ln^{(iv)}(1 + i)}{4!} = \frac{\pi i}{8} \end{aligned}$$

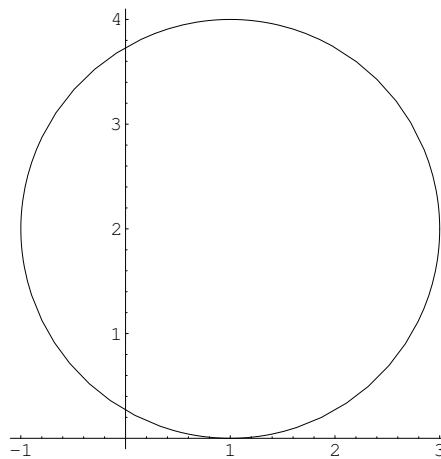


Bild 18 d): Kurve $c : |z - 1 - 2i| = 2$

Taylor-Reihen

Ist $f : D \subset \mathbb{C} \rightarrow \mathbb{C}$ auf D holomorph, dann ist f **beliebig oft differenzierbar** und alle Ableitungen sind wieder holomorph in D .

f ist in eine **Taylor-Reihe** um den **Entwicklungspunkt** $z_0 \in D$ entwickelbar

$$f(z) = \sum_{k=0}^{\infty} \frac{f^{(k)}(z_0)}{k!} (z - z_0)^k.$$

Im Kreis $K_r(z_0) := \{z \mid |z - z_0| < r\} \subset D$ konvergiert diese **Potenzreihe** gleichmäßig. $R = \sup r$ wird als **Konvergenzradius** bezeichnet.

Aufgabe 19:

- a) Man berechne die Taylorreihe von $F(z) = \int_1^z \frac{d\xi}{5 - 3\xi}$ zum Entwicklungspunkt $z_0 = 1$ und bestimme den Konvergenzradius.
- b) Man bestimme die Konvergenzradien der Taylor-Reihen folgender Funktionen zu den angegebenen Entwicklungspunkten z_0 , ohne die Reihen selbst zu berechnen:
- (i) $f(z) = \frac{3}{z^2 + 2z + 5}$, $z_0 = i$ und $z_0 = 0$,
 - (ii) $f(z) = \frac{2}{e^z - 1}$, $z_0 = 2\pi(1 + i)$,
 - (iii) $f(z) = \frac{z}{\ln(3 - 2z)}$, $z_0 = 0$ und $z_0 = \frac{11}{8}$.

Lösung:

- a) Der Integrand f wird unter Berücksichtigung des Entwicklungspunktes $z_0 = 1$ so umgeformt, dass die Summenformel für die geometrische Reihe angewendet werden kann.

$$\begin{aligned} f(\xi) &= \frac{1}{5 - 3\xi} = \frac{1}{5 - 3(\xi - 1) - 3} = \frac{1}{2 - 3(\xi - 1)} \\ &= \frac{1}{2} \cdot \frac{1}{1 - \frac{3(\xi-1)}{2}} = \frac{1}{2} \sum_{n=0}^{\infty} \left(\frac{3(\xi - 1)}{2} \right)^n = \sum_{n=0}^{\infty} \frac{3^n}{2^{n+1}} (\xi - 1)^n \end{aligned}$$

Diese Reihe konvergiert für $|3(\xi - 1)/2| < 1$ gleichmäßig, darf also in der Kreis-

scheibe $|\xi - 1| < 2/3 =: R$ gliedweise integriert werden:

$$\begin{aligned} F(z) &= \int_1^z \frac{d\xi}{5 - 3\xi} = \int_1^z \sum_{n=0}^{\infty} \frac{3^n}{2^{n+1}} (\xi - 1)^n d\xi \\ &= \sum_{n=0}^{\infty} \frac{3^n}{2^{n+1}} \int_1^z (\xi - 1)^n d\xi = \sum_{n=0}^{\infty} \frac{3^n}{(n+1)2^{n+1}} (z-1)^{n+1}. \end{aligned}$$

$$(i) \quad f(z) = \frac{3}{z^2 + 2z + 5} = \frac{3}{(z - (-1 + 2i))(z - (-1 - 2i))}$$

Die Singularitäten liegen bei $z_1 = -1 + 2i$ und $z_2 = -1 - 2i$. Damit ergibt sich der Konvergenzradius der Taylorreihe zum Entwicklungspunkt z_0 durch

$$r = \min\{|z_1 - z_0|, |z_2 - z_0|\}.$$

$$z_0 = i:$$

$$r_1 = \min\{|-1 + 2i - i|, |-1 - 2i - i|\} = \min\{\sqrt{2}, \sqrt{10}\} = \sqrt{2}$$

$$z_0 = 0: \quad r_2 = \min\{|-1 + 2i|, |-1 - 2i|\} = \sqrt{5}$$

(ii) Die Singularitäten von $f(z) = \frac{2}{e^z - 1}$ ergeben sich aus

$$0 = e^z - 1 \Leftrightarrow 1 = e^x \cos y + i e^x \sin y$$

$$\Rightarrow e^x \sin y = 0 \Rightarrow y = k\pi$$

$$\Rightarrow e^x \cos(k\pi) = e^x (-1)^k = 1$$

$$\Rightarrow x = 0 \text{ und } k = 2n \text{ mit } n \in \mathbb{Z}.$$

Die Singularitäten liegen also bei $\tilde{z}_n = 2n\pi i$.

Der Konvergenzradius für $z_0 = 2\pi(1 + i)$ ergibt sich durch:

$$r = \min_n \{|\tilde{z}_n - z_0|\} = \min_n \{|2n\pi i - 2\pi - 2\pi i|\} = |-2\pi| = 2\pi$$

(iii) Für die Funktion $f(z) = \frac{z}{\ln(3 - 2z)}$ bestehen folgende Definitionslücken:

1. Fall:

Der Hauptwert des Logarithmus von $\ln(3 - 2z)$ ist nur in der geschlitzten Ebene definiert, d.h. ausgenommen sind reelle Zahlen x mit $3 - 2x \leq 0 \Leftrightarrow$

$$\frac{3}{2} \leq x.$$

2. Fall:

Nennernullstellen müssen ausgenommen werden:

$$0 = \ln(3 - 2z) = \ln|3 - 2z| + i \arg(3 - 2z) \Rightarrow$$

$\arg(3 - 2z) = 0$, also ist z reell und $|3 - 2z| = 1$ ergibt wegen des 1. Falles nur noch $z = 1$.

Der Konvergenzradius ist gegeben durch den kleinsten Abstand des Entwicklungspunktes z_0 zur nächsten Definitionslücke.

Für $z_0 = \frac{11}{8}$ ergibt sich

$$r_1 = \min \left\{ \left| \frac{3}{2} - \frac{11}{8} \right|, \left| 1 - \frac{11}{8} \right| \right\} = \min \left\{ \frac{1}{8}, \frac{3}{8} \right\} = \frac{1}{8}.$$

Für $z_0 = 0$ ergibt sich $r_2 = \min \left\{ \left| \frac{3}{2} - 0 \right|, |1 - 0| \right\} = 1.$

Laurent-Reihen

Sei f im Kreisring

$$K_{r,R}(z_0) := \{z \in \mathbb{C} \mid r < |z - z_0| < R\}$$

um den **Entwicklungspunkt** $z_0 \in \mathbb{C}$ holomorph, dann gilt

- a) f ist auf $K_{r,R}(z_0)$ eindeutig in eine **Laurent-Reihe** entwickelbar, d.h.

$$f(z) = \sum_{k=-\infty}^{\infty} a_k (z - z_0)^k := \underbrace{\sum_{k=1}^{\infty} a_{-k} (z - z_0)^{-k}}_{\text{Hauptteil}} + \underbrace{\sum_{k=0}^{\infty} a_k (z - z_0)^k}_{\text{Nebenteil}} .$$

- b) Die Koeffizienten a_k sind eindeutig bestimmt und berechnen sich für $k \in \mathbb{Z}$ mit $r < \rho < R$ durch

$$a_k = \frac{1}{2\pi i} \oint_{|z-z_0|=\rho} \frac{f(z)}{(z - z_0)^{k+1}} dz .$$

Der Kreis $|z - z_0| = \rho$ wird dabei einmal positiv durchlaufen. Er kann ersetzt werden durch jede geschlossen C^1 -Kurve im Kreisring, die z_0 einmal positiv umläuft.

- c) **Hauptteil** und **Nebenteil** konvergieren in jedem abgeschlossenen Teilring $K_{\tilde{r},\tilde{R}}(z_0)$ mit $r < \tilde{r} \leq |z - z_0| \leq \tilde{R} < R$ absolut und gleichmäßig.
- d) Ist f im Kreis $K_R(z_0)$ um z_0 holomorph, dann verschwinden die Koeffizienten des Hauptteils, d.h. es gilt $0 = a_{-1} = a_{-2} = a_{-3} = \dots$ und die **Laurent-Reihe** stimmt mit der **Taylor-Reihe** überein.
- e) Die **Konvergenzkarte** beispielsweise einer rationalen Funktion $f(z) = p(z)/q(z)$ mit teilerfremden Polynomen p und q und Nennernullstellen w_k mit $k \leq n$ zum Entwicklungspunkt z_0 setzt sich damit aus ineinander geschachtelten Kreisringen

$$(0 <) \quad |z - z_0| < R_1 < |z - z_0| < R_2 < |z - z_0| < \dots < R_n < |z - z_0|$$

zusammen, mit $R_k = |w_k - z_0|$. Der innere Ring ist dabei ein echter Kreis $|z - z_0| < R_1$, falls z_0 keine Nennernullstelle ist, sonst ist es die punktierte Kreisscheibe $0 < |z - z_0| < R_1$. Die Laurent-Reihen je Kreisring werden in der Regel unterschiedlich sein.

Aufgabe 20:

Man gebe **alle** Potenzreihenentwicklungen der Funktion $f(z) = \frac{5z}{z^2 + z - 6}$ zum Entwicklungspunkt $z_0 = i$ an. Wo konvergieren die Reihen jeweils?

Lösung:

Aufgrund der Lage des Entwicklungspunktes bei $z_0 = i$ und der beiden Singularitäten $z_1 = 2$ und $z_2 = -3$ kann man ablesen, dass eine Taylor-Reihenentwicklung in der Kreisscheibe $|z - i| < \sqrt{5}$ vorliegen wird, eine Laurent-Reihenentwicklung im Kreisring $\sqrt{5} < |z - i| < \sqrt{10}$ und eine davon verschiedene Laurent-Reihenentwicklung im Außenraum $\sqrt{10} < |z - i|$.

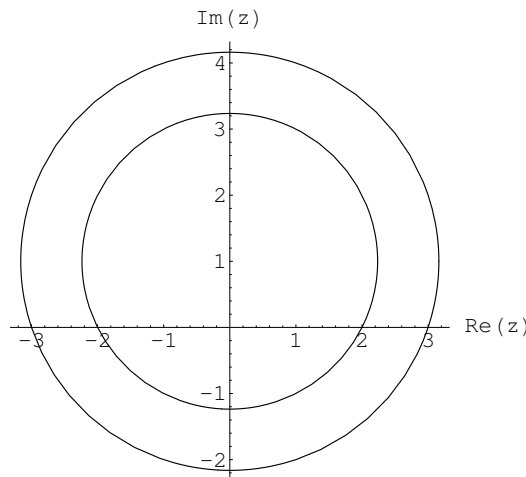


Bild 20): Konvergenzbereiche der Laurent-Reihenentwicklungen um $z_0 = i$

Mit Hilfe der Summenformel der geometrischen Reihe im entsprechenden Konvergenzbereich können die Partialbrüche durch Reihenentwicklungen dargestellt werden:

$$\begin{aligned}
 |z - i| < \sqrt{5} & : \frac{2}{z - 2} = \frac{2}{-2 + i + (z - i)} = \frac{2}{-2 + i} \cdot \frac{1}{1 - (z - i)/(2 - i)} \\
 & = \frac{2}{-2 + i} \sum_{n=0}^{\infty} \frac{(z - i)^n}{(2 - i)^n} = \sum_{n=0}^{\infty} \frac{-2}{(2 - i)^{n+1}} (z - i)^n \\
 |z - i| > \sqrt{5} & : \frac{2}{z - 2} = \frac{2}{-2 + i + (z - i)} = \frac{2}{z - i} \cdot \frac{1}{1 - (2 - i)/(z - i)} \\
 & = \frac{2}{z - i} \sum_{n=0}^{\infty} \frac{(2 - i)^n}{(z - i)^n} = \sum_{n=-\infty}^{-1} \frac{2}{(2 - i)^{n+1}} (z - i)^n
 \end{aligned}$$

$$\begin{aligned}
 |z-i| < \sqrt{10} & : \frac{3}{z+3} = \frac{3}{3+i+(z-i)} = \frac{3}{3+i} \cdot \frac{1}{1+(z-i)/(3+i)} \\
 & = \frac{3}{3+i} \sum_{n=0}^{\infty} \frac{(-1)^n}{(3+i)^n} (z-i)^n = \sum_{n=0}^{\infty} \frac{-3}{(-3-i)^{n+1}} (z-i)^n \\
 |z-i| > \sqrt{10} & : \frac{3}{z+3} = \frac{3}{3+i+(z-i)} = \frac{3}{z-i} \cdot \frac{1}{1+(3+i)/(z-i)} \\
 & = \frac{3}{z-i} \sum_{n=0}^{\infty} \frac{(-1)^n (3+i)^n}{(z-i)^n} = \sum_{n=-\infty}^{-1} \frac{3}{(-3-i)^{n+1}} (z-i)^n
 \end{aligned}$$

Taylor-Reihe mit Konvergenz in der Kreisscheibe $|z-i| < \sqrt{5}$:

$$f(z) = \frac{3}{z+3} + \frac{2}{z-2} = \underbrace{\sum_{n=0}^{\infty} \left(\frac{-2}{(2-i)^{n+1}} + \frac{-3}{(-3-i)^{n+1}} \right)}_{\text{Nebenteil}} (z-i)^n .$$

Laurent-Reihe mit Konvergenz im Kreisring $\sqrt{5} < |z-i| < \sqrt{10}$:

$$f(z) = \frac{3}{z+3} + \frac{2}{z-2} = \underbrace{\sum_{n=-\infty}^{-1} \frac{2}{(2-i)^{n+1}} (z-i)^n}_{\text{Hauptteil}} + \underbrace{\sum_{n=0}^{\infty} \frac{-3}{(-3-i)^{n+1}} (z-i)^n}_{\text{Nebenteil}} .$$

Laurent-Reihe mit Konvergenz im Außenring $\sqrt{10} < |z-i|$:

$$f(z) = \frac{3}{z+3} + \frac{2}{z-2} = \underbrace{\sum_{n=-\infty}^{-1} \left(\frac{2}{(2-i)^{n+1}} + \frac{3}{(-3-i)^{n+1}} \right)}_{\text{Hauptteil}} (z-i)^n .$$